

北方領土検定

(中学生用)

この北方領土検定は、北方領土問題について正しい関心を持ち、正しく理解するための問題です。

問題は、自然編、歴史編、人物編、行政編、産業編の5つの分野があります。各分野の問題は10問で合計50問あります。

1問2点で合計100点満点です。

検定時間は、1分野で10分、合計50分です。

得点と検定レベル(1級から4級まで)の関係は次のとおりです。

| | |
|----------|----|
| 80点～100点 | 1級 |
| 70点～78点 | 2級 |
| 60点～68点 | 3級 |
| 0点～58点 | 4級 |

各問の解答は選択肢A～Dから1つ選び、その記号を解答用紙に記入しなさい。

埼玉県北方領土教育者会議

(平成31年2月)

北方領土検定

自然編（位置、面積、地形、地名、動植物等）

- Q 1 次の島々の中で北方領土の島を含まないものはどれ？
- A：はほまい 歯舞群島・つしま 竹島・さど 対馬・さど 佐渡島（群島も一つの島と考えます）
- B：しこたん 色丹島・みやげ 三宅島・はちじょう 八丈島・あお 青ヶ島
- C：えとろふ 択捉島・よなぐに 与那国島・みなと 南鳥島・おほ 沖ノ鳥島
- D：からふと 樺太島・おくしり 奥尻島・れぶん 礼文島・りしり 利尻島
- Q 2 北方領土の合計面積は、約5,003km²です。面積が一番近い県は？
- A：福岡県 B：香川県 C：埼玉県 D：沖縄県
- Q 3 北海道ののさっぱ 納沙布岬から北方領土で一番近いかいがら 貝殻島までの距離は？
- A：3.7 km B：37 km C：370 km D：3,700 km
- Q 4 本土の本州、北海道、九州、四国を除き、日本で2番目に大きい島は？
- A：沖縄島 B：くなしり 国後島 C：択捉島 D：佐渡島
- Q 5 日本の最北端は何岬？
- A：しらかみ 白神岬 B：そうや 宗谷岬 C：のさっぱ 納沙布岬 D：カモイワッカ岬
- Q 6 国後島にある集落はどれ？
- A：しべとろ 蘂取 B：しゃな 紗那 C：ふるかまっぶ 古釜布 D：とよはら 豊原
- Q 7 北方四島の最高峰（標高1,772m）はどの山？
- A：ちやちや 爺爺岳 B：ちりっぶ 散布山 C：らうす 羅臼山 D：とまり 泊山
- Q 8 北方領土やその周辺海域に生息していない動物は？
- A：ヒグマ B：ラッコ C：アザラシ D：ツキノワグマ

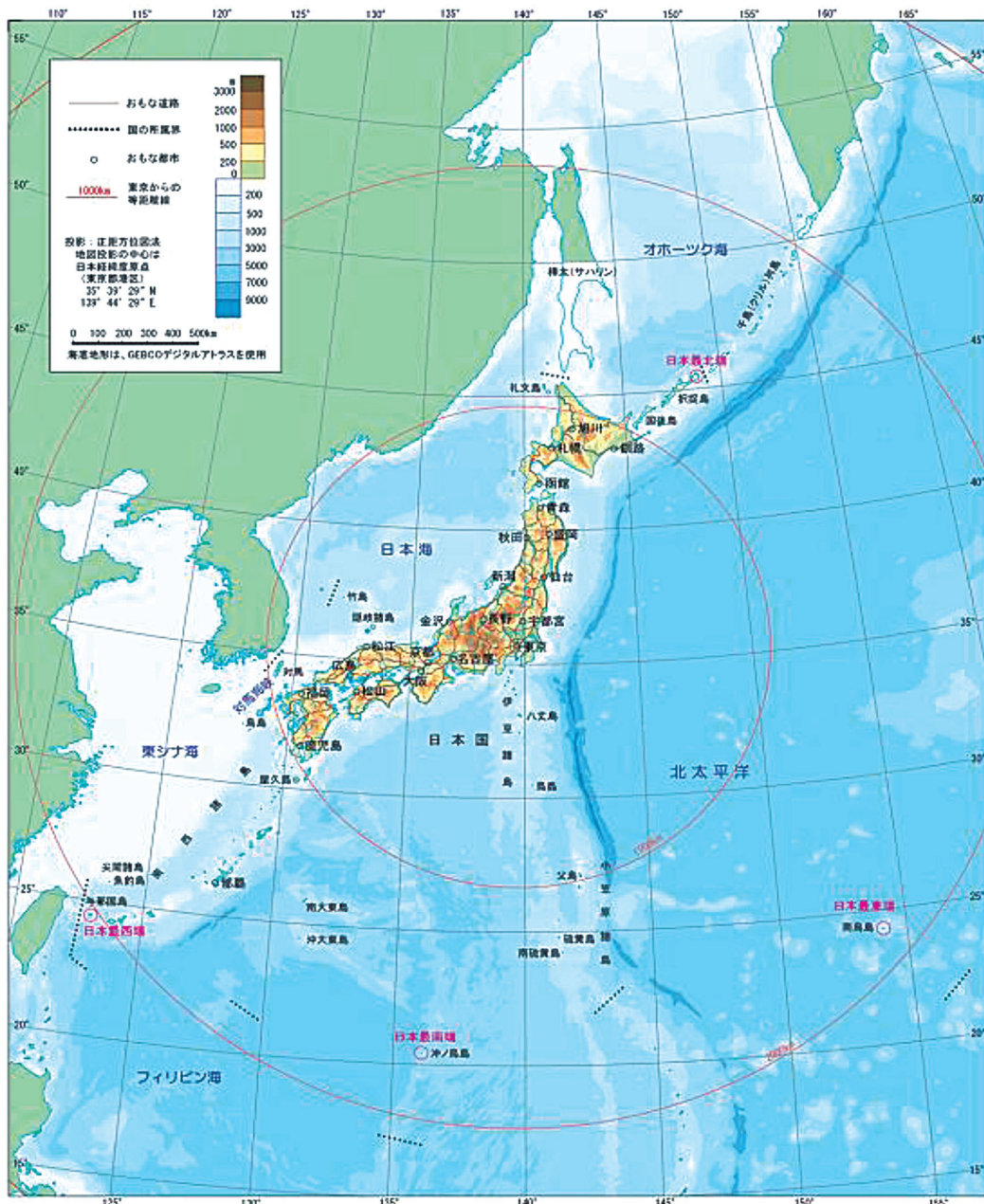
Q 9 北方領土に生息していない鳥は？

A：キジ B：エトピリカ C：オオワシ D：オジロワシ

Q10 北方領土周辺の海は、親潮と黒潮が交錯^{こうさく}している。親潮は何海流？

A：千島海流 B：対馬海流 C：日本海流 D：リマン海流

日本国とその周辺



北方領土の自然と生活

北方領土の自然と生活 今・むかし 人口

第二次世界大戦が終わるまで北方領土の4つの島には、1万7,291人の人々が住んでおりました。この中には、みなさんと同じ小学生もたくさんおり、小学校が39もありました。



色丹島色丹村少年の少年たち



歯舞群島 北沢島のかんづら工場

各島の人口は1945年当時
住んでいました。



自然

元島民のお話
葉附村はサケ・マス・カニ・タラシなどが多い島です。秋田の方から出稼ぎの人たちが来ると400人足らずの村の人口が1,000人以上になるんです。たくさん魚が獲れるから川をのぼってゆくの、川が新えたつているように見えたんです。

北方領土の島々には、たくさん動物たちが住んでいます。キタキツネ、アサラン、オットセイ、トドなどのほか、国後島、択捉島は、森林資源に恵まれていてヒグマも住んでおられます。
また、エトピリカ、エソライチヨロ、オジロシなどのめずらしい鳥も多く見かけます。北方領土のまわりの海は、寒流と暖流が撞きあっているため世界の三大漁場のひとつに数えられています。特にサケ、マス、タラ、トラハガニ、ハマサシガニ、コンブ、ウニ、ホタテなどの宝庫です。




葉附村の海産物の加工場 (佐藤 隆雄撮影)

人々の生活

元島民のお話
みなさんはどうやって生活していますか。あの島の島の名前は、とにかく外で遊ぶことがなかったです。夏は川や海で釣りやカモメの卵を捕ったり、女の子ははねとび、ままごと、2年生頃になると針をもつて、祭り布でお人形をつくり、高せ懸えをして遊びました。秋にはハマナス、ガンコウラン、ギツギなどの木の葉・草の葉を採りシヤムにしておりやつがわりにおくりました。山や川、海がすばらしい遊び場でした。
冬はともぎびしいです。飯盒の日が多く電気、ガス、水道もありません。今の生活と比べると不便だと思うかもしれませんが、島の人たちは何となく、平和に暮らしていました。



北海道にはいろいろな動物がいて、いるんが種類も違うから、島の動物もいろいろある。



あの子とともだち、仲良しで遊んでるの、楽しそう？

おはちちゃんのお話聞いておもしろい！

北方領土検定

歴史編（開拓史、条約、ソ連侵攻等）

- Q 1 江戸時代、北方四島を支配していた北海道の南部にあった藩は？
A：松前藩（まつまえ） B：南部藩（なんぶ） C：仙台藩（せんだい） D：津軽藩（つがる）
- Q 2 北方四島の地名を記した世界最初の地図「正保御国絵図」の完成年は？
A：1644（正保元）年 B：1744（延享元）年
C：1844（弘化元）年 D：1944（昭和19）年
- Q 3 日本とロシアが日露通好条約により平和・友好的に国境を確定した年は？
A：1855（安政元）年 B：1866（慶応2）年
C：1877（明治10）年 D：1888（明治21）年
- Q 4 日露通好条約により定めた日本とロシアの国境は？
A：色丹水道 B：国後水道 C：根室海峡 D：択捉海峡
- Q 5 日露通好条約により定めた樺太の扱いは？
A：日本領 B：ロシア領 C：日露両国民雑居の地
D：未確定とした
- Q 6 樺太千島交換条約を結んだ年は？
A：1875（明治8）年 B：1895（明治28）年
C：1915（大正4）年 D：1935（昭和10）年
- Q 7 1905（明治38）年、樺太の北緯50度以南を日本領とした条約は？
A：北方条約 B：樺太条約 C：千島条約 D：ポーツマス条約

Q 8 1941（昭和16）年4月に署名した日本とソ連の相互不可侵を定めた条約名とその失効年は？

- A：日ソ基本条約、1925（大正14）年 B：日ソ中立条約、1946（昭和21）年
C：日ソ共同宣言、1975（昭和50）年 D：日ソ平和条約、未定

Q 9 1945（昭和20）年8月15日（終戦の日）の北方四島在住の日本人は？

- A：0人 B：291人 C：7,291人 D：17,291人

Q10 サンフランシスコ平和条約で日本が放棄した千島列島と南樺太の帰属は？

- A：ロシア B：アメリカ C：国連 D：未定

北方領土関係年表

| 年 代 | 事 項 |
|------------------|--|
| 1635年 (寛永12年) | ○松前藩は、藩士に蝦夷島を探検させ、初めて国後、択捉や北方の島々の地図を作成する。 |
| 1644年 (正保元年) | ○江戸幕府は、諸藩に「国絵図」の提出を命じ、「正保御国絵図」を作成した。その際、松前藩が幕府に献上した自藩領地図には、「くなしり」、「えとほろ」などの北方の島々の名前が書かれている。 |
| 1711年 (正徳元年) | ○ロシア人が千島列島の北部・占守(しゅむしゅ)島と幌筵(ぱらむしる)島を襲撃する。 |
| 1721年 (享保6年) | ○ロシア人が作成した地図には、千島列島の島々が「オストロワ・アポンスキヤ」(日本の島々)と記されている。 |
| 1798年 (寛政10年) | ○近藤重蔵は、最上徳内らとともに国後、択捉を調査し、択捉島のタンネモイに「大日本恵登呂府」の標柱を建てる。 |
| 1799年 (寛政11年) | ○江戸幕府、東蝦夷地を直轄とする。 |
| 1853年 (嘉永6年) | ○ニコライ1世は、プチャーチン提督に千島列島(クリル諸島)の得撫(うるっぷ)島がロシア領の最南端であるとの訓令を発する。 |
| 1855年 (安政元年) | ○日露通好条約を締結。両国は択捉島と得撫島の間、初めて両国の国境を確定する。樺太は両国の混住の地となる。 |
| 1875年 (明治8年) | ○樺太千島交換条約が成立。日本は、ロシアから千島列島を譲り受ける代わりに、樺太全島を放棄する。千島列島は得撫島以北の18の島で、北方領土は含まれていない。 |
| 1905年 (明治38年) | ○ポーツマス条約に調印。日本はロシアから南樺太を譲り受ける。 |
| 1941年 (昭和16年) | ○日ソ中立条約を締結する。 |
| 1945年 (昭和20年) | ○ソ連軍が北方四島に侵攻し、不法占拠する。 8月9日 ソ連は日ソ中立条約を一方的に破棄し、対日参戦 8月14日 日本はポツダム宣言を受諾 8月15日 第二次世界大戦終結 8月18日 ソ連軍、千島列島への攻撃を開始 8月28日～9月5日 ソ連軍、北方四島を不法占拠 |
| 1951年 (昭和26年) | ○サンフランシスコ平和条約に調印。日本は、千島列島と南樺太を放棄するが、千島列島には北方四島は含まれていない。また、ソ連はこの条約に調印していない。 |

北方領土検定

人物編（近藤重蔵、最上徳内、高田屋嘉兵衛等）

- Q 1 アイヌの人々は太古から、北海道とその周辺地域に居住し、日本の北方地域内を
行き来していた。国後島と色丹島で採集された約7,000～1,600年前の石器に使わ
れた黒曜石は、北海道の紋別郡遠軽町や常呂郡置戸町が原産地であることが判明
している。採集された石器が使われた時代は、何時代？
A：縄文時代 B：弥生時代 C：古墳時代 D：飛鳥時代
- Q 2 1786（天明6）年、国後島・択捉島・得撫島を探検した人物は？
A：最上徳内 B：近藤重蔵 C：大黒屋光太夫 D：間宮林蔵
- Q 3 1798（寛政10）年、最上徳内らと国後島・択捉島を探查し、択捉島に「大
日本恵登呂府」の標柱を建てた幕府の役人は誰？
A：近藤重蔵 B：近藤勇 C：大黒屋光太夫 D：間宮林蔵
- Q 4 択捉島への航路を開き、さらに17か所に漁場を開いた商人の名前は？
A：間宮林蔵 B：高田屋嘉兵衛 C：松浦武四郎 D：最上徳内
- Q 5 1811（文化8）年、国後島に上陸して捕らえられたロシア艦の艦長は？
A：ラクスマン B：レザノフ C：ゴローニン D：プチャーチン
- Q 6 1812（文化9）年、国後島海上でロシア艦に捕らえられた人物は？
A：間宮林蔵 B：高田屋嘉兵衛 C：松浦武四郎 D：近藤重蔵
- Q 7 19世紀初め、樺太が幕府直轄地となる際、幕府から派遣され、樺太が島である
ことを確認し、海峡にその名を残す人物は？
A：間宮林蔵 B：高田屋嘉兵衛 C：松浦武四郎 D：松田伝十郎

- Q 8 1853（嘉永6）年、長崎に来航し長崎奉行に国書を提出し樺太と千島の国境を定めたいと幕府に申し入れたロシア使節は？
- A：プチャーチン B：ゴローニン
C：アレクサンドルI世 D：ディアナ
- Q 9 1855（安政元）年、下田でロシアと日露通好条約を締結したときの日本側の交渉代表者は？（ヒント：出身地は現在の^{大分県}）
- A：西郷隆盛^{さいごうたかもり} B：伊藤博文^{いとうひろぶみ} C：川路聖謨^{かわじとしあきら} D：徳川家定^{とくがわいえさだ}
- Q10 1945（昭和20）年、ソ連に占領された北方領土を米軍の保障占領下に置いてほしいと連合軍最高司令官マッカーサー元帥に陳情した安藤石典^{いしすけ}とはどんな人？
- A：首相 B：北海道知事 C：根室町長 D：元陸軍大将

江戸幕府の巡察隊の派遣

ラクスマンの来航などロシアの南下の動きに対して、幕府は、国防上の必要から、千島・樺太を含む蝦夷地を幕府直轄地として統治することとし、1798年（寛政10年）4月、180余名の大規模巡察隊を蝦夷地に派遣しました。このとき、支配勘定近藤重蔵の班は、最上徳内等と国後、択捉を調査し、択捉島に「大日本恵登呂府」と書いた国土標柱を建て、この年の暮に江戸に帰任しました。

国土標柱



近藤重蔵



漁場・航路の開拓

翌1799年（寛政11年）から1800年（寛政12年）にかけて、近藤重蔵は高田屋嘉兵衛等とともに再び国後島、択捉島に渡り、本土の行政のしくみを取り入れた郷村制をしいたり、漁場を開いたり、島々への航路を開いたりしました。高田屋嘉兵衛が自分の持ち船「辰悦丸（しんえつまる）」に乗り、国後島と択捉島の間を航路を開き、択捉島に17か所の漁場を開いたのもこの頃です。

また、幕府は、択捉島以南の島々に番所を設け、外国人の侵入を防ぐために役人を常駐させました。1801年（享和元年）からは、南部藩と津軽藩の兵、各100余名が守備にあたりました。

北方領土検定

行政編（郡・村制、学校、郵便等）

- Q 1 1945（昭和20）年、北方四島にソ連軍が侵攻する以前、ロシア人は四島に住んでいたか？
A：歴史上、定住者はいなかった B：江戸時代から定住していた
C：明治時代から定住していた D：昭和になってから定住していた
- Q 2 江戸時代末期、^{はほまいぐんとう} 齒舞群島に^{ぎよふ} 漁夫が昆布採取するために設けた施設を何というか？
A：^{ばんや} 番屋 B：^{こうばん} 交番 C：^{とうばん} 当番 D：^{せきしょ} 関所
- Q 3 1876（明治9年）、色丹島に島外から渡航してくる密猟者を取り締まるために設置した施設を何というか？
A：^{ふなあらため} 船改所 B：関所 C：^{ぜいかん} 税関 D：入国管理所
- Q 4 1935（昭和10年）、北海道の根室と国後島の間に通じたものは何？
A：電話 B：テレビ C：衛星放送 D：インターネット
- Q 5 ^{しほつ} 志発島、水晶島などの^{はほまいぐんとう} 齒舞群島を1959（昭和34）年に合併した自治体は？
A：^{はなさき} 花咲郡齒舞村 B：根室市 C：^{しこたん} 色丹郡^{しこたん} 色丹村 D：札幌市
- Q 6 1945（昭和20）年以前、北方四島には日本人の学校、郵便局、神社、寺などがあつた。次の施設の中で、なかつたものは何？
A：^{けいさつしよ} 警察署 B：^{さいばんしよ} 裁判所 C：^{きしやうそっこうじよ} 気象測候所 D：^{けいむしよ} 刑務所
- Q 7 戦前の北方四島に郵便局は合計いくつ置かれていたか？
A：23 B：10 C：3 D：0
- Q 8 日本の最北端に位置する村は？
A：^{しべとろ} 蘂取郡蘂取村 B：^{るべつ} 択捉郡留別村 C：国後郡^{とまり} 泊村 D：色丹郡色丹村

Q 9 北方四島がロシアに不法占領される前、こどもたちの義務教育のための施設として分校や分教場等を含め学校が39か所あった。その学校は何？

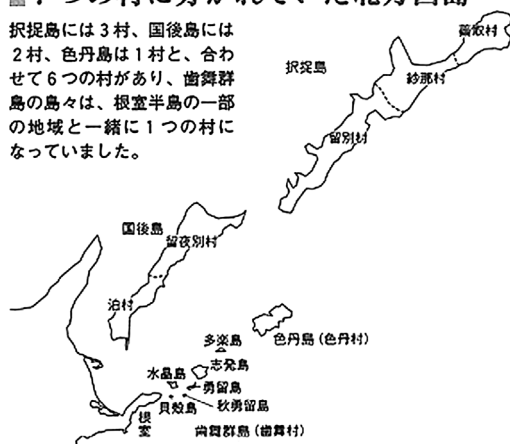
A：国民学校 B：中学校 C：高等学校 D：大学

Q10 北方四島には、寺院は8、^{せつきょうじょ}説教所・^{ふきやう}布教教会は9、神社は41あった。現在までに確認されている日本人墓地はいくつ？

A：0 B：5 C：10 D：52

■ 7つの村に分かれていた北方四島

択捉島には3村、国後島には2村、色丹島は1村と、合わせて6つの村があり、歯舞群島の島々は、根室半島の一部の地域と一緒に1つの村になっていました。



北方領土のデータ

| 北方領土の面積 (km ²) | 他の島・県と面積比較 (km ²) | 北方領土の人口 (人) |
|-------------------------------|----------------------------------|----------------|
| 歯舞群島 | 小笠原諸島 | 5,281 |
| （水晶島） | — | （ 986） |
| （秋勇留島） | — | （ 88） |
| （勇留島） | — | （ 501） |
| （志発島） | — | （2,249） |
| （多楽島） | — | （1,457） |
| 色丹島 | 隠岐本島 | 1,038 |
| 国後島 | 沖縄島 | 7,364 |
| 択捉島 | 鳥取県 | 3,608 |
| 合計 | 福岡県 | 17,291 |
| | 埼玉県 | |
| | 千葉県 | |
| | 東京都 | |
| | 神奈川県 | |
| | 沖縄県 | |
| | 香川県 | |

※ 面積は国土地理院「平成26年全国都道府県市区町村別面積調」による
（小数点第1位を四捨五入）。

人口は1945年8月15日現在（千島歯舞諸島居住者連盟調べ）。

北方領土検定

産業編（漁業、農林業、鉱山業、商業等）

※産業編は、1945（昭和20）年以前の北方領土についての問題です。

- Q 1 北方四島が本土へ移出していた主な食品は？
A：塩鮭 B：米 C：砂糖 D：味噌
- Q 2 歯舞群島の水産物で根室に集荷され国内はもちろん中国の上海にも輸出されているものとは？
A：コンブ B：ウナギ C：真珠 D：サンマ
- Q 3 北方四島が本土から移入していた主な穀類は？（ヒント：日本人の主食）
A：米 B：麦 C：トウモロコシ D：蕎麦
- Q 4 国後島のトドマツやエゾマツなどの針葉樹は製材工場で加工され、木材は島内や根室地方で消費された。その主な利用目的は？
A：家屋等の建築材 B：漁船等の舟材 C：ストーブの薪材
D：線路の枕木材
- Q 5 1945（昭和20）年8月、歯舞群島と色丹島の馬の合計飼育頭数は？
A：8頭 B：38頭 C：638頭 D：1,638頭
- Q 6 北方四島で飼育されていなかった動物は？（ヒント：寒さに弱い）
A：牛 B：豚 C：羊 D：狐
- Q 7 鉱物採掘は1879（明治12）年頃始まった。国後島の千島鉱山では、佐渡島の佐渡鉱山で採れる金属と同じものが採掘された。その産物とは何？
A：石炭 B：硫黄 C：金・銀 D：ダイヤモンド

- Q 8 北方四島の一番大きな産業は？
A：水産業・水産加工業 B：林業 C：農畜産業 D：鉱山業
- Q 9 産業開発の原動力となる電気の発電施設で稼働していたものは何？
A：水力発電所 B：火力発電所 C：風力発電所 D：原子力発電所
- Q10 埼玉県深谷の商店も北方領土の海産物を仲買していた。その海産物は？
A：エビやカニ B：ウニやイカ C：サケやマス D：マグロやタイ

戦前の北方四島とその暮らし

【江戸時代】

- ◎ 北方四島が古くから日本に支配されていた土地であることは、さまざまな文献からも証明されています。1604（慶長9）年になると、蝦夷地（北海道、樺太、千島）は江戸幕府の命令を受けた松前藩が治めるようになりました。松前藩は蝦夷地交易の独占権を持ちながら、北方四島と千島列島に住むアイヌ民族との交流をはじめたと考えられています。
- ◎ その後、1615（元和元）年にもメナシ（羅臼と国後のことを指すアイヌ名）のアイヌ民族の酋長エシラケが、多くの船を使って松前を訪れ、地元の人々と交流したという歴史的経緯を紹介する記述が松前藩の初期の記録「新羅（しんら）の記録」に記述されています。この記録によると、メナシ地方に住んでいたアイヌの人たちがラッコの毛皮を持ってきて、松前藩主に貢ぎ物として差し出したということです。

【明治時代】

- ◎ 明治時代は北海道本土をはじめ、北方四島と千島列島の開拓も積極的に進められた時代でした。1880（明治13）年には新しい行政組織のもと、色丹島、国後島、択捉島の3島に村役場が置かれ、郵便局や小学校も設けられました。道路や港も整備され、しだいに住み良い環境が整えられていきました。島への移住者が増えていったのもこの頃からでした。

【昭和時代・終戦時】

- ◎ 終戦時、北方四島には約17,000人の日本人が暮らしていました。また、各島に役場が置かれ郵便局、警察署、小学校等が設けられ、多くの人が水産業に従事していました。
- ◎ 終戦時、39校の国民学校などにおいて約3,000人の児童が就学していました。
- ◎ 明治維新以降、地方行政制度が施行され、いろいろな変遷を経て終戦時には、各島には次の行政機関が置かれていました。
 - ・ 歯舞群島：北海道根室半島に本村を有していた花咲郡歯舞村（同村の離島という位置づけ）（1959（昭和34）年、根室市に編入・合併され、現在は根室市）。
 - ・ 色丹島：色丹郡色丹村。
 - ・ 国後島：国後郡泊^{とまり}村、国後郡留夜^{るやべつ}別村。
 - ・ 択捉島：択捉郡留^{るべつ}別村、紗那郡紗^{しやな}那村、薬取郡薬^{しべとろ}取村。



留別村役場（昭和12～13年頃）



花嫁と父親



択捉島の仏教寺院



択捉島の国民学校運動会



色丹島の神社



歯舞群島 学校 記念写真



択捉島の祭



日本の最北の村 戦前の薬取村

戦前の北方四島の産業


- ◎ 北方領土周辺の水域は親潮（千島海流）と黒潮（日本海流）が交錯しているため、水産物がきわめて豊富で、古くから世界三大漁場の一つに数えられていました。したがって戦前同水域ではわが国の水産業が盛んでした。主な水産物は、昆布、さけ、ます、たら、すけそくだら、たらばがに、なまこ等です。
- ◎ 1939（昭和元）年から1941（昭和16）年までの3か年の平均水揚高は、約21万トン（当時の金額で約5,200万円）で、北海道全域の23%を占めていました。
- ◎ 水産業のほかに、国後島や択捉島では、林業（針葉樹林）、魚類のふ化事業（サケ、マス）、鉱業（硫黄、硫化鉄、金、銀など）が、また国後島では畜産業（馬、牛、羊など）などがおこなわれていました。



択捉島 紗那村 紗那警察署



択捉島 馬牧場



択捉島 材木の運搬



択捉島 久保田写真館

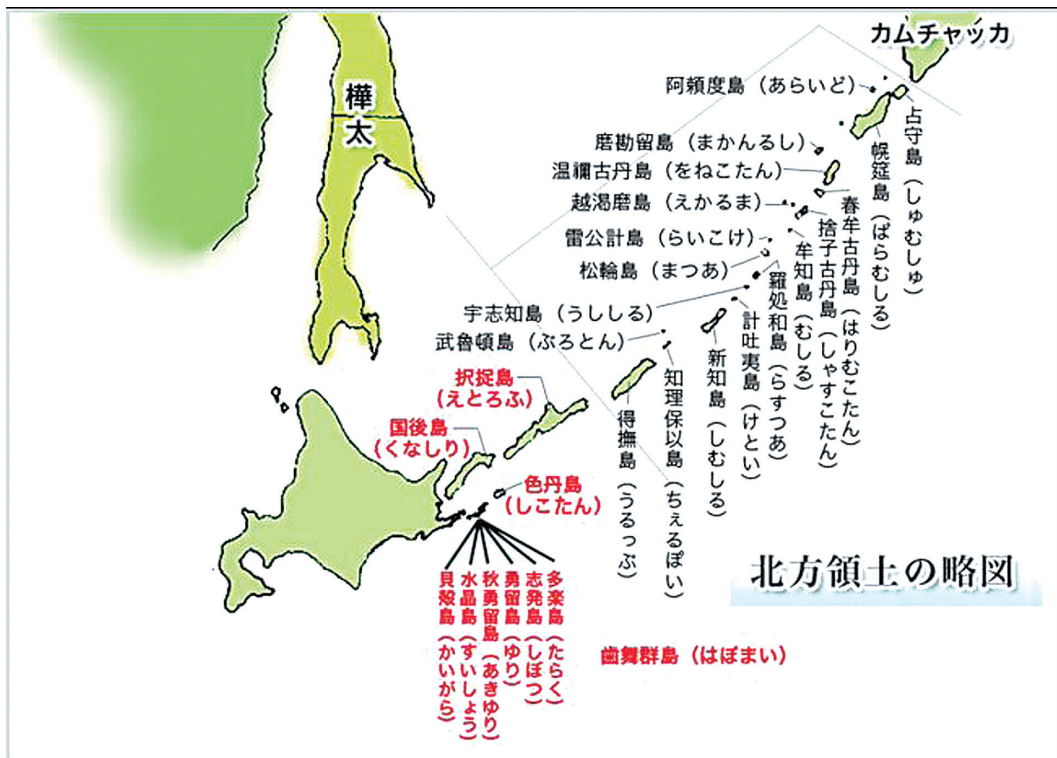


択捉島 大漁の漁船

北方領土のデータ

| 北方領土 | 代表的な山 | 標高 |
|--------|-----------------|--------|
| 択捉島 | 西単冠山（にしひとかっぷやま） | 1,629m |
| | 散布山（ちりっぷさん） | 1,582m |
| | 神威岳（かむいだけ） | 1,323m |
| | ベルタルベ山（べるたるべさん） | 1,221m |
| 国後島 | 爺爺岳（ちゃちゃだけ） | 1,772m |
| | 羅臼山（らうすさん） | 882m |
| | 泊山（とまりやま） | 535m |
| 関東の都県 | 各都県の最高峰 | 標高 |
| 茨城県 | 八溝山（やみぞさん） | 1,022m |
| 栃木・群馬県 | 白根山（しらねさん） | 2,578m |
| 埼玉県 | 三宝山（さんぼうやま） | 2,483m |
| 千葉県 | 愛宕山（あたごやま） | 408m |
| 東京都 | 雲取山（くもとりやま） | 2,017m |
| 神奈川県 | 蛭ヶ岳（ひるがたけ） | 1,673m |

※ 山の標高は国土地理院ホームページによる。



北方領土検定（中学生用）

◎引用資料の出典

- P.2・3 図「日本国とその周辺」及び「北方領土の自然と生活」
独立行政法人北方領土問題対策協会ホームページ
- P.6 年表「北方領土関係年表」
独立行政法人北方領土問題対策協会ホームページ（一部修正）
- P.8・9 資料「江戸幕府の巡察隊の派遣」及び「漁場・航路の開拓」
独立行政法人北方領土問題対策協会ホームページ（一部修正）
- P.11 図「7つの村に分かれていた北方四島」
独立行政法人北方領土問題対策協会ホームページ
- P.13・14 資料「戦前の北方四島の暮らし」
独立行政法人北方領土問題対策協会ホームページ（一部修正）
- P.14・15 写真8葉
「移りゆく北方四島記録集～歯舞群島・択捉島～」(平成27年3月)、
「移りゆく北方四島記録集～国後島・色丹島～」(平成26年度3月)及び
「戦前の北方四島写真収録集」(平成24年度)添付の写真CD
公益社団法人千島歯舞諸島居住者連盟
- P.15 資料「戦前の北方四島の産業」
独立行政法人北方領土問題対策協会ホームページ（一部修正）
- P.16 写真5葉
「移りゆく北方四島記録集～歯舞群島・択捉島～」(平成27年3月)、
「移りゆく北方四島記録集～国後島・色丹島～」(平成26年度3月)及び
「戦前の北方四島写真収録集」(平成24年度)添付の写真CD
公益社団法人千島歯舞諸島居住者連盟
- P.17 表「北方領土データ」
山の標高は国土地理院ホームページ
- P.17 図「北方領土の略図」
独立行政法人北方領土問題対策協会ホームページ

◎参考資料

- 1 東京書籍「新しい社会 歴史」(平成23年3月30日検定済、平成26年2月10日発行)
- 2 帝国書院「中学校社会科地図」(平成27年3月31日検定済)
- 3 「日本の領土 北方領土」根室市・独立行政法人北方領土問題対策協会発行

中学校の先生方へ

「北方領土検定」実施上の留意点

この「北方領土検定」は、検定という形式になっていますが、生徒に北方領土問題について正しい関心をもち、正しく理解してもらうために、楽しくクイズ形式で学ぶことを趣旨とした学習教材です。

そのため、検定問題中に図表や資料文も掲載し、検定時間内に学習することができるものになっています。

- 1 問題は、自然編、歴史編、人物編、行政編、産業編の5つの分野に分かれています。検定時間は全分野で50分間ですが、1分野ずつ10分間で実施してもかまいません。
- 2 得点と検定レベル（1級から4級まで）の関係は、あくまで目安としてください。検定レベルは、生徒に優劣をつけるものではなく、学習の励みとなるようにご指導をお願いします。

この「北方領土検定」を、学習指導要領の趣旨に沿って、授業、補習、総合学習または家庭学習の教材として、使用していただければ幸いです。

平成31年2月

埼玉県北方領土教育者会議