

埼玉県学力・学習状況調査（小学校）

復習シート 第6学年 算数

埼玉県学力・学習状況調査

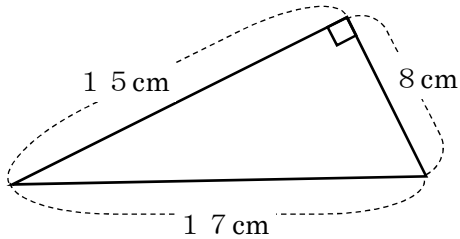


組		番号		名前	
---	--	----	--	----	--

（「図形」を問う問題）

1 次の図形の面積を求めましょう。

(1) 直角三角形



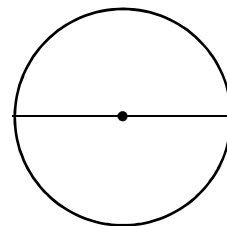
レベル 8

答え

cm^2

(2) 直径 20 cm の円

円周率は 3.14 とします。

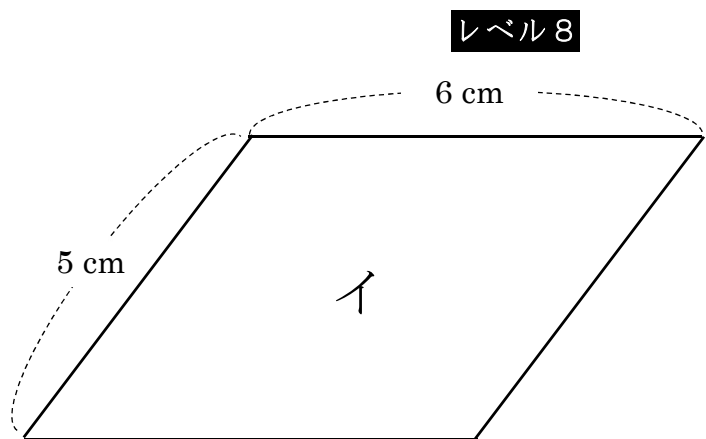
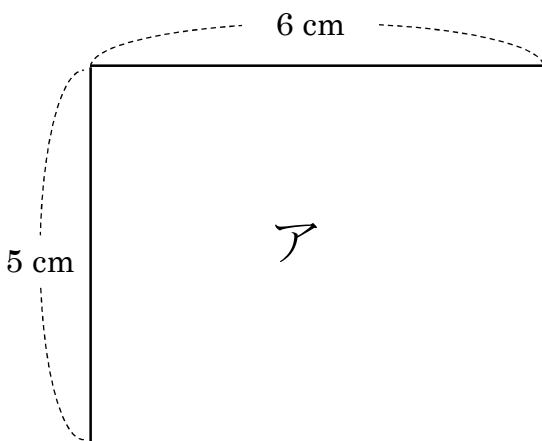


レベル 7

答え

cm^2

2 22 cm のひもを使って、アの長方形とイの平行四辺形をつくりました。
アとイの面積はどちらが大きいですか。正しいものを①から③の中から1つ選び
記号を書きましょう。



レベル 8

- ① アの長方形の方がイの平行四辺形よりも面積が大きい。
- ② アの長方形とイの平行四辺形は同じ面積である。
- ③ イの平行四辺形の方がアの長方形よりも面積が大きい。

答え