

埼玉県学力・学習状況調査（小学校）

# 復習シート 第4学年 算数



組		番 号		名 前	
---	--	--------	--	--------	--

（「数と計算」を問う問題）

1 次の計算をしましょう。

(1)  $406 \times 32$  **レベル5**

(2)  $2 + 4.5$  **レベル3**

答え

答え

2 次の問題に答えましょう。

(1) 250を10倍した数はいくつですか。また、10でわった数はいくつですか。

**レベル2**

10倍した数

10でわった数

答え

答え

(2) 2900000は1万を何こ集めた数ですか。 **レベル5**

答え

こ

(3) ゆきさんが1さつ140円のノートを6さつ買ったところ、お金が320円のこりりました。ゆきさんがはじめに持っていたお金はいくらですか。 **レベル6**

答え

円



埼玉県学力・学習状況調査（小学校）

# 復習シート 第4学年 算数

埼玉県学力・学習状況調査

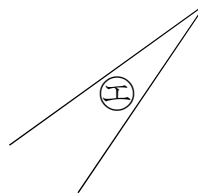
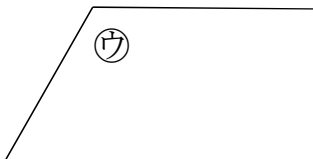
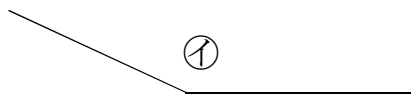
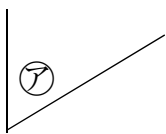


組		番号		名前	
---	--	----	--	----	--

（「図形」を問う問題）

1 下の㉗から㉙の角の大きさをくらべて、大きいじゅんにかきましょう。

レベル 3

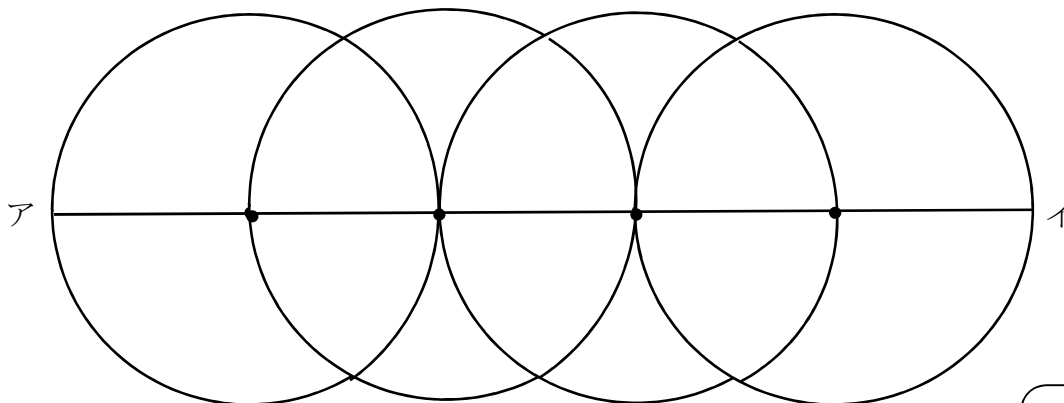


答え

⇒ ⇒ ⇒

2 次の図のように、半径5 cmの円を、円のまわりがとなりの円の中心を通るように4こかきました。直線アイの長さは何 cmですか。

レベル 6



答え

cm

埼玉県学力・学習状況調査（小学校）

# 復習シート 第4学年 算数

組		番号		名前	
---	--	----	--	----	--

埼玉県学力・学習状況調査



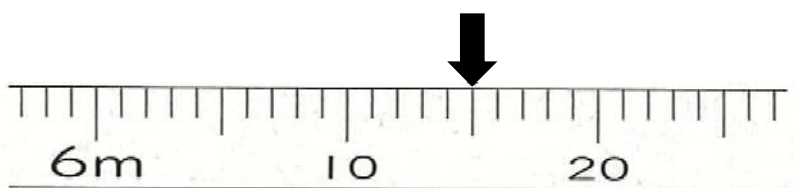
（「測定」を問う問題）

1 次の問題を解きなさい。

レベル4

（1）次の図はまきじゃくの一部です。 ↓ のめもりが表す長さは何m何cmですか。


①



答え

m cm

②



答え

m cm

（2）6分は何秒ですか。答えを書きましょう。 レベル3

答え

秒

（3）ひまりさんは、8時30分に家を出て、10分歩いて公園に行きました。  
公園であさひさんと何分間かあそんだ後に、また10分歩いて家に帰りました。  
ひまりさんが家についた時こくが9時45分のとき、ひまりさんとあさひさんが  
いっしょに公園であそんだ時間は何分間ですか。 レベル6

埼玉県学力・学習状況調査



答え

分間

埼玉県学力・学習状況調査（小学校）

# 復習シート 第4学年 算数



組		番号		名前	
---	--	----	--	----	--

（「データの活用」を問う問題）

- 1 次のぼうグラフは、9月と10月に学校であった落とし物について、落とし物のしゅるいとかずを表したものです。

- (1) 9月に一番多かった落とし物は何ですか。

**レベル5**

答え

- (2) 10月に一番少なかった落とし物は何ですか。

**レベル5**

答え

- (3) 9月と10月の2か月で一番多かった落とし物は、何ですか。

**レベル5**

答え

(こ) 落とし物調べ（9月と10月）

