




() ねん () くみ () ばん

なまえ ()


- 1 はとが 4わ います。
 3わ とんで いくと、のこりは
 なんわに なりますか。
 しきに かいて こたえましょう。



しき



こたえ


- 2 みかんが 6こ あります。
 2こ たべると、のこりは
 なんこに なりますか。
 しきに かいて こたえましょう。



しき

こたえ

- 3 ねこが 9ひき います。
 は 5ひき です。
 は なんひき いますか。
 しきに かいて こたえましょう。



しき

こたえ

- 4 ひきざんを して、□の なかに はいる かずを こたえましょう。

(1) $3 - 2 =$

(2) $5 - 3 =$

(3) $7 - 1 =$

(4) $8 - 4 =$

(5) $6 - 5 =$

(6) $10 - 7 =$



() ねん () くみ () ばん

なまえ ()

1 □の なかに はいる かずを かきましょう。

(1) 4から 1を ひくと、 に なります。


(2) 9から 7を ひくと、 に なります。

2 りんごが 7こ あります。

かきが 4こ あります。

りんごは、かきより なんこ

おいしいでしょうか。



しき


こたえ

3 が 5ひき います。

が 3ひき います。

と の かずの

ちがいは なんびきですか。




しき

こたえ

4 だいこんと にんじんでは、どちらが
なんぼん おいしいでしょうか。

しき



こたえ

が

ほん おおい。

