

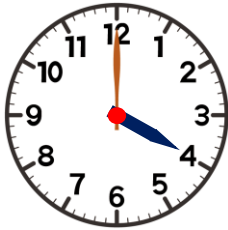


模範解答

() ねん () くみ () ばん
なまえ ()

1 とけいを よみましょう。

(1)



4 じ

(2)



2 じはん

(3)



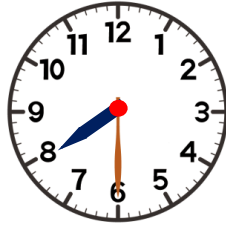
10 じはん

2 8 じはんの とけいは どれですか。

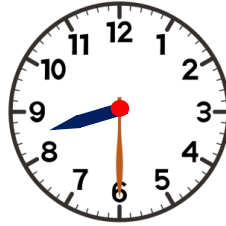
あ



い



う



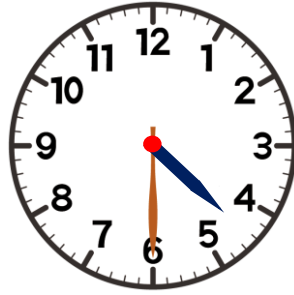
う

3 ながい はりを かきましょう。

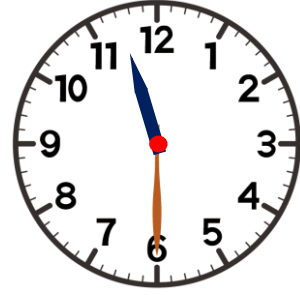
(1) 3 じ



(2) 4 じはん



(3) 11 じはん

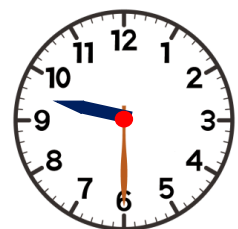


4 とけいを みて、□に はいる かずを かきましょう。

9 じはんの とけい

みじかい はりは、 と の
あいだに あります。

ながい はりは を さして います。



9 じはん