



( ) ねん ( ) くみ ( ) ばん

なまえ ( )

1 りんごは ぜんぶで なんこに なりましたか。

2こ あります。

3こ もらいました。

1こ もらいました。



しき

こたえ

2 □に はいる かずを かきましょう。

(1)  $4 + 2 + 3 = \square$

6

(2)  $5 + 3 + 2 = \square$

$\square$

3 つぎの けいさんを しましょう。

(1)  $4 + 1 + 3$

(2)  $8 + 2 + 7$

(3)  $4 + 6 + 5$

4  $6 + 4 + 3$ の しきに なる もんだいは どちらですか。

あ

バスに 6にん のっています。  
 つぎに 4にん のって きました。  
 さいごに 3にん のって きました。  
 バスに のっているのは、  
 みんなで なんにんに なりましたか。

い

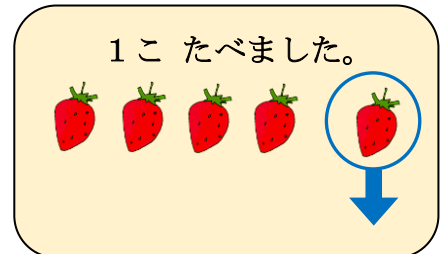


バスに 6にん のっています。  
 つぎに 3にん のって きました。  
 さいごに 4にん のって きました。  
 バスに のっているのは、  
 みんなで なんにんに なりましたか。



( ) ねん ( ) くみ ( ) ばん

なまえ ( )

- 1 いちごが 7こ あります。 2こ たべました。 また 1こ たべました。  
いちごは なんこに なりましたか。



しき

こたえ

- 2 つぎの けいさんを しましょう。

(1)  $9 - 3 - 5$

(2)  $12 - 2 - 6$

(3)  $16 - 6 - 7$

- 3  $8 - 3 + 4$ の しきに なる もんだいを つくります。

㊤から ㊦の なかから えらんで □に かきましょう。

- ㊤ でんしゃに 8にん のって います。
- ㊥ 3にん のって きました。
- ㊦ 3にん おりました。
- ㊧ 4にん のって きました。
- ㊨ 4にん おりました。

でんしゃに のって いるのは、  
みんなで なんにんに なりましたか。

- 4 つぎの けいさんを しましょう。

(1)  $7 - 2 + 3$

(2)  $10 - 6 + 1$

(3)  $4 + 6 - 3$