
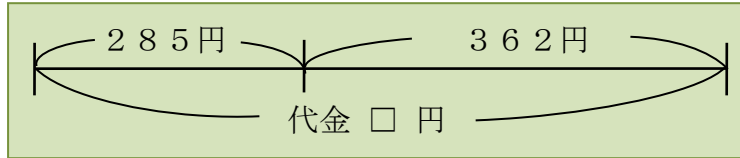




() 年 () 組 () ばん

名前 ()

- 1 285円のケーキと、362円のクッキーを
 買います。代金だいきんはいくらになりますか。



285円



362円

式：

答え：

- 2 □にあてはまる数を書きましょう。
 右の筆算で、

5 は、 が5こあること

8 は、 が8こあること

あらわ
 を表している。

	4	2	3
+	1	6	4
	5	8	7

- 3 つぎ
 次の計算を筆算でしましょう。

(1) 364 + 125

(2) 258 + 413

(3) 724 + 81

(4) 185 + 697

(5) 506 + 297

(6) 857 + 394



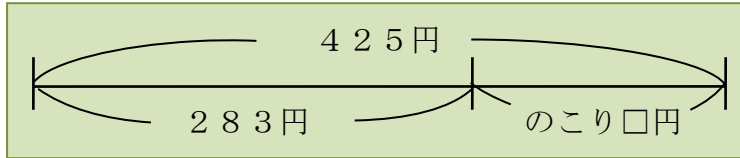
() 年 () 組 () ばん

名前 ()

- 1 ひかるさんは、425円^もを持って買い物に行きました。
283円のキウイを買うと、のこりはいくらになりますか。



283円



式：

答え：

- 2 つぎの計算を筆算でしましょう。

(1) $738 - 412$

(2) $594 - 267$

(3) $315 - 149$

(4) $406 - 238$

(5) $603 - 547$

(6) $201 - 9$

- 3 □に数を入れて、正しい筆算をつくりましょう。

(1)

	3	□	8
+	□	4	□
<hr/>			
	5	1	2

(2)

	□	0	□
-	1	□	5
<hr/>			
	6	3	9



() 年 () 組 () ばん

名前 ()

- 1 ゆうえんち 遊園地の今日の にゆうじょうしゃすう 入場者数は、きのうより182人少なく、853人でした。
この遊園地の、きのうの入場者数は何人ですか。

式：

答え：

- 2 1000円さつを出して、739円のカーネーションを
買いました。おつりはいくらになりますか。



739円

式：

答え：

- 3 つぎ 次の計算を筆算でしましょう。

(1) $2584 + 1376$

(2) $4193 - 2508$

- 4 次の筆算はまちがっています。その理由をりゆうせつ明して、正しい答えをもとめましょう。

せつ明

	4	7	2
—	3	9	0
	1	8	2

正しい答え：
